

अखिल भारतीय राजपुरोहित समाज विकास संस्थान,
श्री खेतेश्वर ब्रह्मधाम तीर्थ, आसोतरा के तत्वावधान में
समाज शिक्षा समर्पण निधि योजना के अन्तर्गत संचालित
श्री खेतेश्वर प्रतियोगी परीक्षा केन्द्र,
श्री खेतेश्वर विद्यापीठ, बडली (जोधपुर)

MID TERM ENTRENCE EXAM-2025

PAPER CODE - SKPK/MTEE/1215

PAPER SERIES- **D**

TOTAL QUES.-100

TIME- 02 HOURS

MAX. MARKS 300

NAME OF STUDENT :-.....

ROLL NO :-

DATE OF EXAM :-

DAY OF EXAM :-.....

परीक्षार्थियों के लिए निर्देश

1. सभी प्रश्नों के उत्तर दीजिए।
2. सभी प्रश्नों के अंक समान हैं।
3. प्रत्येक प्रश्न का केवल एक ही उत्तर दीजिए।
4. एक से अधिक उत्तर देने की दशा में प्रश्न के उत्तर को गलत माना जाएगा।
5. प्रत्येक प्रश्न के चार वैकल्पिक उत्तर दिये गये हैं, जिन्हें क्रमशः A, B, C, D अंकित किया गया है। अभ्यर्थी को सही उत्तर निर्दिष्ट करते हुए उनमें से केवल एक गोले अथवा बबल को उत्तर-पत्रक पर नीले बॉल प्वाइंट पेन से गहरा करना है।
6. प्रत्येक गलत उत्तर के लिए प्रश्न अंक का 1/3 भाग काटा जायेगा। गलत उत्तर से तात्पर्य अशुद्ध उत्तर अथवा किसी भी प्रश्न के एक से अधिक उत्तर से है। किसी भी प्रश्न से संबंधित गोले या बबल को खाली छोड़ना गलत उत्तर नहीं माना जायेगा।
7. मोबाइल फोन अथवा इलेक्ट्रॉनिक यंत्र का परीक्षा हॉल में प्रयोग पूर्णतया वर्जित है। यदि किसी अभ्यर्थी के पास ऐसी कोई वर्जित सामग्री मिलती है, तो उसके विरुद्ध समिति द्वारा नियमानुसार कार्यवाही की जायेगी।
8. कृपया अपना रोल नम्बर ओ.एम.आर. पत्रक पर सावधानीपूर्वक सही भरें। गलत अथवा अपूर्ण रोल नम्बर भरने पर 5 अंक कुल प्राप्तांकों में से काटे जा सकते हैं।
9. यदि किसी प्रश्न में किसी प्रकार की कोई मुद्रण या तथ्यात्मक प्रकार की त्रुटि हो. तो प्रश्न के हिन्दी तथा अंग्रेज़ी रूपान्तरों में से अंग्रेज़ी रूपान्तर मान्य होगा।

INSTRUCTIONS FOR CANDIDATES

1. Answer all questions
2. All questions carry equal marks.
3. Only one answer is to be given for each question.
4. If more than one answers are marked, it would be treated as wrong answer.
5. Each question has four alternative responses marked serially as A, B, C, D. You have to darken only one circle or bubble indicating the correct answer on the Answer Sheet using BLUE BALL POINT PEN.
6. 1/3 part of the mark(s) of each question will be deducted for each wrong answer. A wrong answer means an incorrect answer or more than one answers for any question. Leaving all the relevant circles or bubbles of any question blank will not be considered as wrong answer.
7. Mobile Phone or any other electronic gadget in the examination hall is strictly prohibited. A candidate found with any of such objectionable material with him/her will be strictly dealt as per rules by Committee.
8. Please correctly fill your Roll Number in O.M.R. Sheet. 5 Marks can be deducted for filling wrong or incomplete Roll Number.
9. If there is any sort of ambiguity/mistake either of printing or factual nature, then out of Hindi and English Version of the question, the English Version will be treated as standard.

इस परीक्षा पुस्तिका को तब तक न खोलें जब तक कहा न जाए।

Do not open this Test Booklet until you are asked to do so.

1. Seven people P,Q,R,S,T,U and V are sitting in a straight line adjacent to each other, facing the north (not necessarily in the given order). R is sitting to the immediate right of U. U is sitting third to the right of P. There are only four persons sitting between P and T. Q is the immediate neighbour of V and U. Who can be the immediate neighbour of S?

P, Q, R, S, T, U और V नामक सात व्यक्ति एक-दूसरे के साथ एक सीधी रेखा में उत्तर की ओर उन्मुख होकर बैठे हैं (आवश्यक नहीं कि दिए गए क्रम में बैठे हों)। R, U के निकटतम दाएँ बैठा है। U, P के दाएँ से तीसरे स्थान पर बैठा है। P और T के बीच में केवल चार व्यक्ति बैठे हैं। Q, V और U का निकटतम पड़ोसी है। S का निकटतम पड़ोसी कौन हो सकता है?

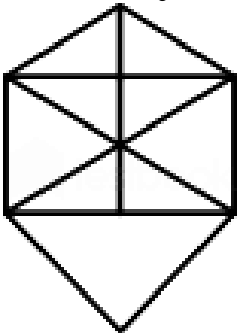
- (A) Q (B) U
(C) T (D) R

2. What is the compound interest on ₹ 5,000 for 2 years @ 5% p.a. compounded annually?

5,000 रुपये का 2 वर्ष के लिए 5% वार्षिक ब्याज दर से चक्रवृद्धि ब्याज कितना है, जबकि ब्याज वार्षिक रूप से संयोजित होता है?

- (A) 500.00 (B) 510.00
(C) 512.50 (D) 515.00

3. Select the option that represents the number of triangles in the given figure. उस विकल्प का चयन करें जो दी गई आकृति में त्रिभुजों की संख्या को दर्शाता है।



- (A) 14 (B) 16
(C) 18 (D) 17

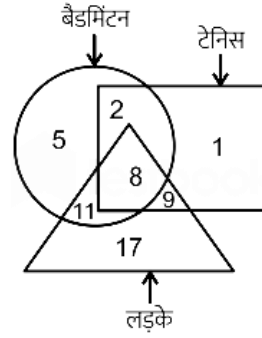
4. The marked price of a toy is Rs.1,600. If the shopkeeper declares a discount of 10% and then 10% cash discount, then what is the selling price of the toy?

एक खिलौने का अंकित मूल्य 1,600 रुपये है। यदि दुकानदार 10% की छूट और फिर 10% नकद छूट की घोषणा करता है, तो खिलौने का विक्रय मूल्य कितना है?

- (A) Rs.1,096 (B) Rs.1,296
(C) Rs.1,240 (D) Rs.1,088

5. Study the given diagram carefully and answer the question. The numbers in different sections indicate the number of persons.

दिए गए आरेख का ध्यानपूर्वक अध्ययन करें और प्रश्न का उत्तर दें। विभिन्न अनुभागों में संख्याएँ व्यक्तियों की संख्या दर्शाती हैं।



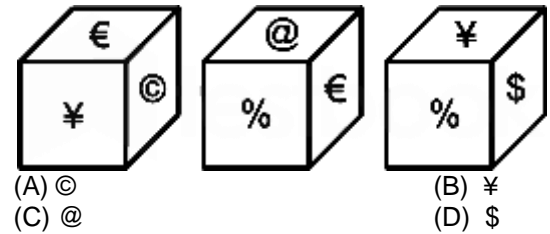
How many such boys are there who play badminton but NOT tennis?

ऐसे कितने लड़के हैं, जो बैडमिंटन खेलते हैं लेकिन टेनिस नहीं?

- (A) 9 (B) 17
(C) 8 (D) 11

6. Three different positions of the same dice are shown. Select the symbol that will be on the face opposite to the one having '€'.

एक ही पासे की तीन अलग-अलग स्थितियाँ दिखाई गई हैं। उस प्रतीक का चयन कीजिए जो '€' वाले फलक के विपरीत फलक पर होगा।



- (A) © (B) ¥
(C) @ (D) \$

7. The respective ratio of milk and water in the mixture is 4 : 3. If 6 litres of water is added to this mixture, the respective ratio of milk and water becomes 8 : 7. What is the quantity of milk in the original mixture?

मिश्रण में दूध और पानी का संबंधित अनुपात 4 : 3 है। यदि इस मिश्रण में 6 लीटर पानी मिलाया जाता है, तो दूध और पानी का संबंधित अनुपात 8 : 7 हो जाता है। मूल मिश्रण में दूध की मात्रा क्या है?

- (A) 84 litres (B) 50 litres
(C) 48 litres (D) 36 litres

8. In a certain code language, 'He is my nephew' is coded as 'Co Pv Zs Mn', 'That is my car' is coded as 'Zs Pt Pv Ga', 'He is your uncle' is coded as 'Co Pv Ex Yz'. What is the code for 'nephew' in this code language?

एक निश्चित कूट भाषा में, 'He is my nephew' को 'Co Pv Zs Mn' के रूप में कूटबद्ध किया जाता है, 'That is my car' को 'Zs Pt Pv Ga' के रूप में कूटबद्ध किया जाता है,

- 'He is your uncle' को 'Co Pv Ex Yz' के रूप में कूटबद्ध किया जाता है। इस कूट भाषा में 'nephew' के लिए कूट क्या है
(A) Co (B) Mn (C) Zs (D) Pv
9. A stock of food is enough for 315 men for 48 days. For how many days the same stock of food is enough, if 45 more men join?
एक भोजन का भंडार 315 पुरुषों के लिए 48 दिनों के लिए पर्याप्त है। यदि 45 पुरुष और शामिल हो जाएं तो भोजन का वही भंडार कितने दिनों के लिए पर्याप्त होगा?
(A) 46 (B) 42 (C) 48 (D) 44
10. A sum of Rs. 4,000 becomes Rs. 4,960 in 4 years at simple interest. If the rate of interest becomes 1.5 times of itself, then how much this sum will become after 4 years?
साधारण ब्याज पर 4 वर्ष में 4,000 रुपये का मूलधन 4,960 रुपये हो जाता है। यदि ब्याज की दर स्वयं की 1.5 गुनी हो जाए, तो 4 वर्ष बाद यह मूलधन कितना हो जाएगा?
(A) Rs. 5,440 (B) Rs. 5,680
(C) Rs. 5,280 (D) Rs. 4,890
11. Select the option that expresses the following sentence in indirect speech.
She said to me, "I have often told you not to play with fire."
(A) She told me that she had often told me not to play with fire.
(B) She asked me that she had often told me not to play with fire.
(C) She told me that she has often told me not to play with fire.
(D) She said to me that she has often told me not to play with fire.
12. The following sentence has been divided into parts. One of them may contain an error. Select the part that contains the error from the given options.
She has been speaking / four languages / very fluent / since childhood.
(A) since childhood. (B) She has been speaking
(C) very fluent (D) four languages
13. Select the option that expresses the given sentence in passive voice.
They have built a new bridge across the river.
(A) A new bridge will have been built across the river by them.
(B) They have been building a new bridge across the river.
(C) A new bridge has been building across the river by them.
(D) A new bridge has been built across the river by them.
14. The following sentence has been divided into parts. One of them may contain an error. Select the part that contains the error from the given options.
The team played / extremely / good / during the match.
(A) extremely (B) The team played
(C) good (D) during the match.
15. Select the most appropriate ANTONYM of the underlined word in the given sentence.
It is a misconception that the more you learn, the more likely you are to succeed.
(A) Hallucination (B) Fallacy
(C) Illusion (D) Certainty
16. Select the option that expresses the following sentence in passive voice.
The students have presented national level projects to the jury successfully.
(A) National level projects had been presented by the students to the jury successfully.
(B) National level projects were presented by the students to the jury successfully.
(C) National level projects have been presented by the students to the jury successfully.
(D) National level projects have presented by the students to the jury successfully.
17. Select the most appropriate synonym of the given word.
Beneficial
(A) Helpful (B) Kernel
(C) Winsome (D) Strangle
18. Select the option that expresses the given sentence in indirect speech.
The class teacher told, "Kneel down in the corridor."
(A) The class teacher ordered to kneel down in the corridor.
(B) The class teacher told that they kneel down in the corridor.
(C) The class teacher had ordered to kneel down in the corridor.
(D) The class teacher ordered that they should kneel down in the corridor.
19. Select the most appropriate option that can substitute the underlined segment in the given sentence.
My brother is resembling my mother.
(A) was resembling (B) resembles
(C) had resembled (D) had been resembling
20. Select the most appropriate ANTONYM of the given word.
Virtue
(A) Acquire (B) Stout
(C) Precise (D) Vice

Que No. 96 - 100 (Comprehension)

Read the given passage and answer the question that follows.

Sustainable utensils are proving to be a crucial tool in our collective efforts towards building a greener and more environmentally conscious world. These utensils, often made from renewable resources such as bamboo or plant-based materials like cornstarch, offer a myriad of benefits. Firstly, sustainable utensils significantly reduce our reliance on single-use

plastics. Plastic cutlery, traditionally used for convenience, contributes to the vast amounts of waste that end up in landfills and oceans, polluting ecosystems and harming marine life. By switching to sustainable alternatives, we can minimise this environmental damage. Secondly, sustainable utensils are biodegradable or compostable, meaning they can break down naturally over time. This ensures that even if they do end up in landfills, they persist for centuries like plastic does. Instead, they return to the Earth without leaving a lasting negative impact. These utensils can be reused multiple times, further reducing waste. Many sustainable options are durable and washable, making them a viable long-term solution

21. Based on the information provided in the passage, which among the following is NOT an example of sustainable utensil?

- (A) Wooden cutlery (B) Plastic cutlery
(C) Edible cutlery (D) Bioplastic cutlery

22. What distinguishes sustainable utensils from plastic cutlery?

- (A) They are made from non-renewable resources
(B) They are more expensive
(C) They have a lower environmental impact
(D) They have a shorter lifespan

23. Which of the following is NOT a characteristic of sustainable utensils?

- (A) Non-recyclability (B) Biodegradability
(C) Reusability (D) Durability

24. What is the main focus of the passage?

- (A) The importance of sustainable alternatives
(B) The benefits and harms of single-use plastic
(C) The environmental benefits of the sustainable utensils
(D) The economic benefits of sustainable utensils

25. Which materials are commonly used to make sustainable utensils?

- (A) Plastic and aluminium
(B) Ceramic and wood
(C) Metal and glass
(D) Bamboo and cornstarch

26. संविधान सभा से सम्बन्धित मांग अनुसार सही क्रमांक बताये ?

1. अगस्त प्रस्ताव 2. क्रिप्स मिशन
3. कैबिनेट मिशन
4. M N राय द्वारा संविधान सभा के गठन की मांग
(A) 1,2,3,4 (B) 2,3,4,1
(C) 4,1,2,3 (D) 4,1,3,2

Give the correct number according to the demand related to the Constituent Assembly?

1. August proposal 2. Cripps Mission
3. Cabinet Mission
4. Demand for formation of Constituent Assembly by M N Roy
(A) 1,2,3,4 (B) 2,3,4,1

(C) 4,1,2,3

(D) 4,1,3,2

27. भारतीय संविधान की विशेषता में निम्न कथनों पर विचार कीजिए -

1. भारतीय संविधान में दोहरी नागरिकता का प्रावधान है।
2. राज्य के नीति - निर्देशक सिद्धान्त न्यायोचित प्रकृति के हैं।
3. संविधान में संघीय शब्द का उल्लेख नहीं है
4. ब्रिटिश संसद की तरह 'भारतीय संसद' सम्प्रभु है।
(A) उपर्युक्त चारों सत्य हैं।
(B) उपर्युक्त चारों असत्य हैं।
(C) केवल 1,2 और 4 असत्य हैं।
(D) केवल 3 और 4 असत्य हैं।

Consider the following statements about the features of the Indian Constitution -

1. There is provision for dual citizenship in the Indian Constitution.
2. The Directive Principles of State Policy are of justifiable nature.
3. The word federal is not mentioned in the Constitution.
4. Like the British Parliament, the 'Indian Parliament' is sovereign.
(A) All the four above are true.
(B) All the four above are false.
(C) Only 1,2 and 4 are false.
(D) Only 3 and 4 are false.

28. किस संविधान संशोधन द्वारा मत (वोट) देने की आयु 21 वर्ष से घटाकर 18 वर्ष कर दी थी?

- (A) 61वां संविधान संशोधन (B) 73वां संविधान संशोधन
(C) 52वां संविधान संशोधन (D) 91वां संविधान संशोधन

By which constitutional amendment the voting age was reduced from 21 years to 18 years?

- (A) 61st constitutional amendment
(B) 73rd constitutional amendment
(C) 52nd constitutional amendment
(D) 91st constitutional amendment

29. नियन्त्रक एवं महालेखा परीक्षक से सम्बन्धित कौनसा एक कथन असत्य है ?

- (A) नियन्त्रक एवं महालेखा परीक्षक की नियुक्ति राष्ट्रपति द्वारा की जाती है और इसका कार्यकाल 6 या 65 वर्ष होता है।
(B) उसे हटाने का आधार वैसा ही है जैसा कि उच्चतम न्यायालय के न्यायाधीश का है।
(C) यह भारत सरकार के प्रमुख लेखा रक्षकों में से एक है।
(D) यह राष्ट्रपति के प्रति जिम्मेदार होता है।

Which one statement related to the Comptroller and Auditor General is false?

- (A) The Comptroller and Auditor General is appointed by the President and his tenure is 6 or 65 years.
 (B) The grounds for his removal are the same as that of a Supreme Court judge.
 (C) He is one of the chief Account protectors of the Government of India.
 (D) He is responsible to the President.

30. पश्चिम से पूर्व की ओर पहाड़ियों का सही क्रम कौनसा है

1. खासी 2. जयन्तिया 3. गारो 4. नागा
 (A) 1,2,3,4 (B) 2,3,1,4
 (C) 3,1,2,4 (D) 3,2,1,4

What is the correct order of hills from west to east -

1. Khasi 2. Jaintia 3. Garo 4. Naga
 (A) 1,2,3,4 (B) 2,3,1,4
 (C) 3,1,2,4 (D) 3,2,1,4

31. पूर्व से पश्चिम की ओर पर्वत चोटियों का सही क्रम में व्यवस्थित कीजिए -

1. मैकालू 2. कंचनजंगा
 3. धौलागिरी 4. माउंट एवरेस्ट
 (A) 1,2,3,4 (B) 2,1,4,3
 (C) 2,1,3,4 (D) 2,3,4,1

Arrange the mountain peaks in the correct order from east to west -

1. Makalu 2. Kanchenjunga
 3. Dhaulagiri 4. Mount Everest
 (A) 1,2,3,4 (B) 2,1,4,3
 (C) 2,1,3,4 (D) 2,3,4,1

32. शांत घाटी कहां स्थित है ?

- (A) उत्तराखण्ड (B) तमिलनाडु
 (C) हिमाचल प्रदेश (D) केरल

Where is the Silent Valley located?

- (A) Uttarakhand (B) Tamil Nadu
 (C) Himachal Pradesh (D) Kerala

33. सही सुमेलित नहीं है -

- | | |
|----------------|---------------|
| दोआब | नदियां |
| (A) बारी दोआब | व्यास - रावी |
| (B) रचना दोआब | रावी - झेलम |
| (C) बिस्ट दोआब | व्यास - सतलज |
| (D) चाज दोआब | चेनाब - झेलम |

The correct match is not given -

- | | |
|-----------------|-----------------|
| Doab | Rivers |
| (A) Bari Doab | Beas - Ravi |
| (B) Rachna Doab | Ravi - Jhelum |
| (C) Bist Doab | Beas - Sutlej |
| (D) Chaj Doab | Chenab - Jhelum |

34. केबुललामजाओ (तैरता हुआ राष्ट्रीय पार्क) के लिए प्रसिद्ध झील कौनसी है ?

- (A) सांग्मो झील (B) लोकटीक झील
 (C) राकसताल झील (D) पुलिकट झील

Which lake is famous for Kebulamjao (floating national park)?

- (A) Sangmo Lake (B) Loktik Lake
 (C) Rakastal Lake (D) Pulicat Lake

35. निम्न में से किस देवता को 'ऋतस्य गोपा' कहा गया है ?

- (A) इन्द्र (B) वरुण
 (C) विष्णु (D) अश्विनी

Which of the following gods has been called 'Ritsya Gopa'?

- (A) Indra (B) Varun
 (C) Vishnu (D) Ashwini

36. सही मिलान कीजिए -

- | | |
|----------------|------------------------|
| अधिकारी | सम्बन्धित कार्य |
| 1. समाहर्ता | (क) राजस्व |
| 2. सन्निधात्र | (ख) कोषाध्यक्ष |
| 3. तीर्थ | (ग) निम्न कर्मचारी |
| 4. युक्ता | (घ) उच्च कर्मचारी |
- (A) 1(ख), 2(क), 3(घ), 4(ग)
 (B) 1(क), 2(ख), 3(घ), 4(ग)
 (C) 1(ग), 2(घ), 3(ख), 4(क)
 (D) 1(घ), 2(ख), 3(क), 4(ग)

Match correctly -

- | | |
|----------------|---------------------|
| Officer | Related Work |
| 1. Collector | (a) Revenue |
| 2. Sannidhatra | (b) Treasurer |
| 3. Tirtha | (c) Lower Employee |
| 4. Yukta | (d) Higher Employee |
- (A) 1(b), 2(a), 3(d), 4(c)
 (B) 1(a), 2(b), 3(d), 4(c)
 (C) 1(c), 2(d), 3(b), 4(a)
 (D) 1(d), 2(b), 3(a), 4(c)

37. हडप्पा सभ्यता की वास्तुकला से सम्बन्धित असत्य कथन की पहचान कीजिए-

- (A) आमतौर पर नगर दो भागों में विभाजित थे ऊँचे दुर्ग तथा निचला नगर।
 (B) वृहत स्नानागार का साक्ष्य हडप्पा नामक स्थल से प्राप्त हुआ है।
 (C) मोहरों पर चित्राक्षर लिपि का प्रयोग होता था।
 (D) कांसे की मूर्तियों को लुप्त मोम तकनीक से बनाया जाता था।

Identify the incorrect statement related to the architecture of the Harappan Civilization-

- (A) Generally the cities were divided into two parts, the high fort and the lower city.
 (B) Evidence of a large bathhouse has been found from a site called Harappa.
 (C) Pictographic script was used on seals.
 (D) Bronze statues were made using the lost wax technique.

38. इब्नबतूता किसके दरबार में रहा था?

- (A) मुहम्मद तुगलक (B) फिरोज शाह तुगलक
 (C) अलाउद्दीन खिलजी (D) गयासुद्दीन तुगलक

In whose court did Ibn Battuta stay?

- (A) Muhammad Tughlaq
 (B) Firoz Shah Tughlaq
 (C) Alauddin Khilji
 (D) Ghiyasuddin Tughlaq

39. शाहजहां ने निम्न में से किन - किन का निर्माण करवाया था ?

1. दिल्ली की जामा मस्जिद
 2. लाहौर का शालीमार बाग
 3. दिल्ली का लाल किला
 4. शाहजहानाबाद नगर

- (A) उपर्युक्त चारों
 (B) केवल 2 और 4
 (C) केवल 2, 3 और 4
 (D) केवल 1 और 4

Which of the following were built by Shah Jahan?

1. Jama Masjid of Delhi
 2. Shalimar Bagh of Lahore
 3. Red Fort of Delhi
 4. Shahjahanabad city
 (A) All the four of the above
 (B) Only 2 and 4
 (C) Only 2, 3 and 4
 (D) Only 1 and 4

40. प्रमुख हरित गृह गैसे कौनसी है, जो जलवायु को अत्यधिक मात्रा में प्रभावित करती हैं?

- (1) कार्बन डाइऑक्साइड (2) मैथेन
 (3) नाइट्रस ऑक्साइड (4) जलवाष्प
 (A) उपर्युक्त चारों (B) केवल 1,2,3
 (C) केवल 1,2,4 (D) केवल 1, 3

Which are the major greenhouse gases that affect the climate to a great extent?

- (1) Carbon dioxide (2) Methane
 (3) Nitrous oxide (4) Water vapour
 (A) All of the above (B) Only 1,2,3
 (C) Only 1,2,4 (D) Only 1,3

41. निम्नलिखित में से कौन से जलवायु परिवर्तन के प्रमुख कारन हैं?

- (1) जीवाश्मिक ईंधन का अधिकाधिक प्रज्वलन
 (2) तेल चालित स्वचालितों की संख्या बिस्फोट
 (3) सौर-धधक में वृद्धि
 (4) अताधिक वनोन्मूलन
 (A) केवल 2,3 (B) केवल 1,4
 (C) केवल 1,2,4 (D) उपर्युक्त सभी

Which of the following are the main causes of climate change?

- (1) Increased burning of fossil fuels
 (2) Increase in the number of oil-powered automobiles
 (3) Increase in solar flares
 (4) Excessive deforestation
 (A) Only 2,3 (B) Only 1,4
 (C) Only 1,2,4 (D) All of the above

42. ध्वनि प्रदूषण को मापने हेतु निम्नलिखित में से किस इकाई का प्रयोग करते हैं ?

- (A) नैनोमीटर्स (B) डेसीबल
 (C) हर्ट्ज (D) कोई नहीं

Which of the following units is used to measure noise pollution?

- (A) Nanometres (B) Decibel
 (C) Hertz (D) None of the above

43. पीने के पानी को शुद्ध करने के लिए निम्नलिखित गैसों में से किसे प्रयोग में लाया जाता है-

- (A) सल्फर डाइऑक्साइड (B) क्लोरीन
 (C) फ्लोरीन (D) कार्बन डाइऑक्साइड

Which of the following gases is used to purify drinking water-

- (A) Sulphur dioxide (B) Chlorine
 (C) Fluorine (D) Carbon dioxide

44. निम्नांकित में से भारतीय संविधान का कौन सा अनुच्छेद राज्यपाल को राज्य विधानमण्डल के विश्रान्ति काल में अध्यादेश प्रख्यापित करने की शक्ति प्रदान करता है ?

- (A) अनुच्छेद 211 (B) अनुच्छेद 210
 (C) अनुच्छेद 213 (D) अनुच्छेद 214

Which of the following Articles of the Indian Constitution empowers the Governor to promulgate ordinances during the recess of the State Legislature?

- (A) Article 211 (B) Article 210
 (C) Article 213 (D) Article 214

45. किसी उच्च न्यायालय के न्यायाधीश को उसके कार्यकाल में उसके पद से किसके द्वारा हटाया जा सकता है-

- (A) संसद द्वारा दो तिहाई बहुमत से पारित संकल्प के आधार पर राष्ट्रपति द्वारा

- (B) यदि राज्य का विधानमण्डल इस आशय का दो-तिहाई बहुमत से प्रस्ताव पारित करे तो राज्य के राज्यपाल द्वारा
(C) संसद की सिफारिश के आधार पर उच्चतम न्यायालय के मुख्य न्यायमूर्ति द्वारा
(D) राज्य विधान मंडल की सिफारिश पर राज्य के उच्च न्यायालय के मुख्य न्यायमूर्ति द्वारा

A judge of a High Court can be removed from his office during his tenure by-

- (A) By the President on the basis of a resolution passed by the Parliament with a two-thirds majority
(B) By the Governor of the State if the State Legislature passes a resolution to this effect with a two-thirds majority
(C) By the Chief Justice of the Supreme Court on the recommendation of the Parliament
(D) By the Chief Justice of the High Court of the State on the recommendation of the State Legislature

46. क्षेत्रफल की दृष्टि से राजस्थान के प्रमुख भू-आकृतिक प्रदेशों को सही क्रमानुसार व्यवस्थित कीजिए-

- क. अरावली पर्वतीय प्रदेश
ख. पश्चिमी मरुस्थलीय प्रदेश
ग. पूर्वी -मैदानी प्रदेश
घ. दक्षिणी पूर्वी पठारी प्रदेश

- (A) क, ख, ग, घ (B) ख, ग, क, घ
(C) ख, ग, घ, क (D) ख, घ, ग, क

Arrange the main physiographic regions of Rajasthan in the correct order in terms of area-

- a. Aravalli Mountainous Region
b. Western Desert Region
c. Eastern Plains Region
d. South Eastern Plateau Region

- (A) a, b, c, d (B) b, c, a, d
(C) b, c, d, a (D) b, d, c, a

47. अर्द्धवृत्ताकार बालुको स्तूपों (बरखान) का सबसे अधिक विस्तार किस उप प्रदेश में ज्यादा है ?

- (A) घग्घर का मैदान (B) शुष्क मरुस्थलीय क्षेत्र
(C) शेखावटी प्रदेश (D) गोडवाड प्रदेश

In which sub-region is the maximum spread of semi-circular sand dunes (Barkhan)?

- (A) Ghaggar plain (B) Dry desert region
(C) Shekhawati region (D) Godwad region

48. सही सुमेलित कीजिए-

- | | |
|--------------------------|--------------------------------|
| कोपेन का वर्गीकरण | राज्य के जलवायु प्रदेश |
| (1) Aw | (क) मानसूनी वर्षा क्षेत्र |
| (2) Bshw | (ख) उष्ण शुष्क प्रदेश |
| (3) Bwhw | (ग) अर्द्ध शुष्क प्रदेश |
| (4) Cwg | (घ) उष्णकटिबंधीय आर्द्र प्रदेश |

- (A) (1) क (2) ख (3) ग (4) घ
(B) (1) घ (2) ग (3) ख (4) क
(C) (1) क (2) ग (3) ख (4) घ
(D) (1) घ (2) ख (3) ग (4) क

Match correctly -

Köppen's classification of climatic

regions of the state

- | | |
|----------|-----------------------------|
| (1) Aw | (a) Monsoon rainfall region |
| (2) Bshw | (b) Hot arid region |
| (3) Bwhw | (c) Semi-arid region |
| (4) Cwg | (d) Tropical Wetlands |
- (A) (1) A, (2) B (3) C (4) D
(B) (1) D (2) C (3) B (4) A
(C) (1) A (2) C (3) B (4) D
(D) (1) D (2) B (3) C (4) A

49. दक्षिणी राजस्थान में सर्वाधिक वर्षा होती है ?

- (A) अरब सागरीय मानसूनी शाखा से
(B) बंगाल की खाड़ी की मानसूनी शाखा से
(C) शीतोष्ण चक्रवातों से
(D) लौटते हुए मानसूनी पवनों से

Southern Rajasthan receives the maximum rainfall from?

- (A) Arabian Sea monsoon branch
(B) Bay of Bengal monsoon branch
(C) Temperate cyclones
(D) Returning monsoon winds

50. राजस्थान में सबसे अधिक विस्तार किन वनों का है?

- (A) धोकड़ा (B) सागवान
(C) बांस (D) पलाश

Which forest has the largest spread in Rajasthan?

- (A) Dhokra (B) Teak
(C) Bamboo (D) Palash

51. उष्ण कटिबंधीय आर्द्र जलवायु, तापमान 15-25° सेल्सियस एवं 125-165 सेमी. वर्षा किस फसल हेतु सबसे अनुकूल हैं ?

- (A) कपास (B) गेहूँ
(C) गन्ना (D) तम्बाकू

Tropical humid climate, temperature 15-25° Celsius and 125-165 cm rainfall is most suitable for which crop?

- (a) Cotton (b) Wheat
(c) Sugarcane (d) Tobacco

52. सूची-I का सूची-II से सही मिलान कीजिए -

- | | |
|---------------------------------|--------------------------|
| सूची-I (सीमेंट ईकाई) | सूची-II (स्थापित) |
| (i) जे.के. सीमेंट | (क) गोटन |
| (ii) श्री सीमेंट | (ख) निम्बाहेड़ा |
| (iii) बिनानी सीमेंट | (ग) ब्यावर |
| (iv) जे.के. बिरला सीमेंट (सफेद) | (घ) सिरौही |

- (A) (i) क (ii) ख (iii) ग (iv) घ
 (B) (i) ख (ii) ग (iii) घ (iv) क
 (C) (i) ख (ii) ग (iii) क (iv) घ
 (D) (i) ख (ii) घ (iii) ग (iv) क

Match List-I with List-II correctly -

List-I (Cement Unit)

- (i) J.K. Cement
 (ii) Shri Cement
 (iii) Binani Cement
 (iv) J.K. Birla Cement (White)

List-II

- (Established)
 (a) Gotan
 (b) Nimbaheera
 (c) Beawar
 (d) Sirohi

- (A) (i) a (ii) b (iii) c (iv) d
 (B) (i) b (ii) c (iii) d (iv) a
 (C) (i) b (ii) c (iii) a (iv) d
 (D) (i) b (ii) d (iii) c (iv) a

53. नाथरा की पाल तथा मोरीजा - बनोला क्षेत्र की खाने हैं -

- (A) कोयले की (B) तांबे की
 (C) लौह अयस्क की (D) मैंगनीज की

The mines of Nathra ki Pal and Morija-Banola area are -

- (A) Coal (B) Copper
 (C) Iron ore (D) Manganese

54. कौन - कौन से बायोमास ऊर्जा के प्रमुख स्रोत हैं ?

1. सरसों की तुड़ी 2. जूली फ्लोरा
 3. चावल की भूसी 4. गन्ने की लकड़ी
 (A) 1, 2, 3, 4 (B) केवल 1 और 2
 (C) केवल 1, 3 और 4 (D) केवल 3 और 4

Which are the main sources of biomass energy?

1. Mustard straw 2. Julie Flora
 3. Rice husk 4. Sugarcane wood
 (A) 1, 2, 3, 4 (B) Only 1 and 2
 (C) Only 1, 3 and 4 (D) Only 3 and 4

55. राजस्थान की प्राचीन सभ्यता स्थल तथा उनके वर्तमान

स्थल को सही सुमेलित कीजिए

- | | |
|---------------------|---------------|
| प्राचीन सभ्यता स्थल | वर्तमान स्थल |
| (1) नगरी | क भीलवाडा |
| (2) बागौर | ख चित्तौड़गढ़ |
| (3) गिलुण्ड | ग उदयपुर |
| (4) आहाड | घ राजसमन्द |

- (a) (1) क, (2) ग (3) ख (4) घ
 (b) (1) ख (2) क (3) घ (4) ग
 (c) (1) ग (2) घ (3) क (4) ख
 (d) (1) ख, (2) घ (3) ग (4) क

Match the ancient civilization sites of Rajasthan and their present sites correctly?

Ancient civilization Site

Present site

- | | |
|------------|-----------------|
| (1) Nagari | A. Bhilwara |
| (2) Bagor | B. Chittaurgarh |
| (3) Gilund | C. Udaipur |
| (4) Ahad | D. Rajsamand |
- (a) (1) A, (2) C (3) B (4) D
 (b) (1) B (2) A (3) D (4) C
 (c) (1) C (2) D (3) A (4) B
 (d) (1) B, (2) D (3) C (4) A

56. हवनकुंड (अग्निवेदिकाए) के साक्ष्य किस सभ्यता से प्राप्त हुए हैं-

- (A) कालीबंगा (B) आहाड
 (C) बागौर (D) बैराठ

From which civilization have the evidences of Havan Kund (Agnivedika) been found?

- (A) Kalibanga (B) Ahad
 (C) Bagor (D) Bairath

57. किस प्रशस्ति शिलालेख में महाराणा अमरसिंह द्वारा की गई मुगल-मेवाड़ संधि का वर्णन है -

- (A) राजसिंह प्रशस्ति (B) कुम्भलगढ शिलालेख
 (C) चीरण अभिलेख (D) सामोली शिलालेख

Which prashasti inscription describes the Mughal-Mewar treaty made by Maharana Amar Singh -

- (A) Rajsingh Prashasti
 (B) Kumbhalgarh inscription
 (C) Cheeran inscription
 (D) Samoli inscription

58. निम्न में से गुर्जर-प्रतिहार राजवंश के बारे में सही कथन नहीं है -

- (A) ऐहोल अभिलेख में गुर्जर जाति का सर्वप्रथम उल्लेख हुआ है।
 (B) नागभट्ट प्रथम का दूसरा नाम 'नागावलोक' था।
 (C) चीनी यात्री हेनसांग ने भीनमाल का उल्लेख किया है।
 (D) ग्वालियर प्रशस्ति की रचना नागभट्ट द्वितीय ने की थी।

Which of the following is not a correct statement about the Gurjar-Pratihara dynasty -

- (A) The Gurjar caste is first mentioned in the Aihole inscription.
 (B) The other name of Nagabhatta I was 'Nagavalok'.
 (C) The Chinese traveller Hieun Tsang has mentioned Bhinmal.
 (D) Gwalior Prashasti was written by Nagabhatta II.

59. मेवाड़ के शासको को सही कालक्रमानुसार व्यवस्थित कीजिए-

- (1) समरसिंह (2) महाराणा लाखा
 (3) महाराणा कुम्भा (4) जेत्रसिंह
 (A) 1, 2, 3, 4 (B) 1, 3, 4, 2
 (C) 4, 1, 2, 3 (D) 4, 1, 3, 2

Arrange the rulers of Mewar in correct chronological order-

- (1) Samarsingh (2) Maharana Lakha
(3) Maharana Kumbha (4) Jetrasinh
(A) 1, 2, 3, 4 (B) 1, 3, 4, 2
(C) 4, 1, 2, 3 (D) 4, 1, 3, 2

60. राजस्थान के पूर्व मध्यकालीन राज्यों में नैमित्तिक पदनाम किसके लिए प्रयोग किया जाता था-

- (A) राजकीय कवि के लिए
(B) लोक स्वास्थ्य विभाग के प्रमुख केन्द्र
(C) राजकीय ज्योतिष के लिए
(D) मुख्य न्यायिक अधिकारी के लिए

In the early medieval states of Rajasthan, the Naimittik designation was used for whom?

- (A) For the state poet
(B) For the main centre of the public health department
(C) For the state astrologer
(D) For the chief judicial officer

61. 'भीत की भाछ' किस रियासत में प्रचलित थी ?

- (A) बीकानेर (B) जोधपुर
(C) मेवाड़ (D) जयपुर

In which state was 'Bhinh ki Bhach' popular?

- (A) Bikaner (B) Jodhpur
(C) Mewar (D) Jaipur

62. कविराजा श्यामलदास को "केसरे हिन्द" का तमगा देने वाले मेवाड़ के पॉलिटिकल एजेंट का क्या नाम था ?

- (A) कर्नल इम्पी (B) विलियमसन
(C) कैप्टन शावर्स (D) मेजर ईडन

What was the name of the political agent of Mewar who gave the title of "Kesre Hind" to Kaviraja Shyamaldas?

- (A) Colonel Impy (B) Williamson
(C) Captain Showers (D) Major Eden

63. सूची I को सूची II से मिलान कीजिए -

1. देवनारायण जी A. सामलिया
2. हड़बू जी B. तिलवाड़ा
3. मल्लीनाथ जी C. बैंगटी
4. केहरधणी D. आसींद

- | | | | |
|-------|---|---|---|
| 1 | 2 | 3 | 4 |
| (A) A | B | C | D |
| (B) A | B | D | C |
| (C) B | A | D | C |
| (D) D | C | B | A |

Match List I with List II -

1. Devnarayan Ji A. Samalia
2. Hardu Ji B. Tilwara
3. Mallinaath Ji C. Bangati
4. Kehardhani D. Aasind

- | | | | |
|-------|---|---|---|
| 1 | 2 | 3 | 4 |
| (A) A | B | C | D |
| (B) A | B | D | C |
| (C) B | A | D | C |
| (D) D | C | B | A |

64. निम्नलिखित ग्रन्थों के बारे में विचार कीजिए -

1. देसावली 2. सुधासागर
3. विरहशतक 4. कनकावती की कथा
5. कबूतर नामा

उपर्युक्त में से कौनसा / कौनसे ग्रन्थ न्यामत खाँ (जान कवि) द्वारा रचित है -

- (A) 1, 3 एवं 5 (B) 1, 2 एवं 4
(C) केवल 3 और 5 (D) उपर्युक्त पाँचों

Consider the following texts -

1. Desavali 2. Sudhasagar
3. Virahshatak 4. Kanakavati Ki Katha
5. Kabutar Nama

Which of the above texts is/are written by Nyamat Khan (Jaan Kavi) -

- (A) 1, 3 and 5 (B) 1, 2 and 4
(C) Only 3 and 5 (D) All the five of the above

65. कॉलम I को कॉलम II से सुमेलित कीजिए तथा नीचे दिए गये कूट की सहायता से अपना उत्तर दीजिए -

1. लाडली जी का मन्दिर A. इंगरपुर
2. विभीषण मन्दिर B. धौलपुर
3. सेपऊ महादेव मन्दिर C. कोटा
4. देव सोमनाथ मन्दिर D. जयपुर

- | | | | | |
|-----|---|---|---|---|
| | 1 | 2 | 3 | 4 |
| (A) | A | B | C | D |
| (B) | D | C | A | B |
| (C) | D | C | B | A |
| (D) | D | A | B | C |

Match Column I with Column II and give your answer using the code given below -

1. Ladli Ji Temple A. Dungarpur
2. Vibhishan Temple B. Dholpur
3. Sepau Mahadev Temple C. Kota
4. Dev Somnath Temple D. Jaipur

- | | | | | |
|-----|---|---|---|---|
| | 1 | 2 | 3 | 4 |
| (A) | A | B | C | D |
| (B) | D | C | A | B |
| (C) | D | C | B | A |
| (D) | D | A | B | C |

66. निम्नलिखित में से कौनसा कथन सही नहीं है -

- (A) सिवाना दुर्ग का निर्माण वीर नारायण प वांर ने करवाया था।
(B) सिवाना दुर्ग को जालौर दुर्ग की कुंजी भी कहा जाता है।
(C) जयनारायण व्यास को सिवाना के दुर्ग में बंदी बनाकर रखा गया था।
(D) इस दुर्ग में संत मलिकशाह की दरगाह स्थित है।

Which of the following statements is not correct -

- (A) The Siwana fort was built by Veer Narayan Pawar.
 (B) The Siwana fort is also called the key to the Jalore fort.
 (C) Jayanarayan Vyas was kept captive in the Siwana fort.
 (D) The dargah of Saint Malik Shah is situated in this fort.

67. कॉलम I को कॉलम II से सुमेलित कीजिए तथा नीचे दिए गये कूट की सहायता से अपना उत्तर दीजिए

- | | |
|------------------------|------------------------|
| 1. बीजोलाई महल | A. जोधपुर |
| 2. छत्रमहल | B. बूंदी |
| 3. बनेड़ा महल | C. भीलवाड़ा |
| 4. मुबारक महल | D. टोंक |
| (A) 1-A, 2-C, 3-B, 4-D | (B) 1-B, 2-C, 3-D, 4-A |
| (C) 1-A, 2-B, 3-C, 4-D | (D) 1-C, 2-B, 3-A, 4-D |

Match Column I with Column II and give your answer using the code given below -

- | | |
|------------------------|------------------------|
| 1. Bijolai Palace | A. Jodhpur |
| 2. Chhatra Mahal | B. Bundi |
| 3. Baneda Palace | C. Bhilwara |
| 4. Mubarak Mahal | D. Tonk |
| (A) 1-A, 2-C, 3-B, 4-D | (B) 1-B, 2-C, 3-D, 4-A |
| (C) 1-A, 2-B, 3-C, 4-D | (D) 1-C, 2-B, 3-A, 4-D |

68. ज्योतिस्वरूप, मोहम्मद हनीफ, लालसिंह भाटी आदि का संबंध निम्न में से किस एक कला से है -

- (A) थेवा कला (B) मीनाकारी
 (C) उस्ताकला (D) फड़ चित्रकारी

Jyotiswaroop, Mohammad Hanif, Lal Singh Bhati etc. are related to which one of the following arts -

- (A) Theva art (B) Meenakari
 (C) Usta Kala (D) Phad painting

69. कौनसा एक सुमेलित नहीं है -

- (A) टखमण - उदयपुर (B) चितेरा - जोधपुर
 (C) अंकन - भीलवाड़ा (D) आयाम - बीकानेर

Which one is not correctly matched -

- (A) Takhman - Udaipur (B) Chitera - Jodhpur
 (C) Ankan - Bhilwara (D) Aayam - Bikaner

70. निम्न कथनों के बारे में विचार कीजिए -

- देवगढ़ चित्रशैली को प्रकाश में लाने का श्रेय डॉ. श्रीधर अंधारे को जाता है।
- बणी - ठणी को राजस्थान की मोनालिसा भी कहा जाता है।
- खूबीराम, घासीराम, नारायण, चतुर्भुज आदि चित्रकार नाथद्वारा चित्रशैली से सम्बन्धित है।
- पशु - पक्षियों का सर्वाधिक चित्रण बूंदी शैली में झलकता है।

उपर्युक्त में से कौनसा/कौनसे कथन सत्य है।

- (A) केवल 3 और 4 (B) केवल 1 और 2
 (C) केवल 1 और 4 (D) उपर्युक्त चारों

Consider the following statements -

- The credit for bringing Devgarh style of painting to light goes to Dr. Shridhar Andhare.
- Bani-Thani is also called the Monalisa of Rajasthan.
- Painters like Khubiram, Ghasiram, Narayan, Chaturbhuj etc. are associated with the Nathdwara style of painting.
- The maximum depiction of animals and birds is reflected in the Bundi style.

Which of the above statements is/are correct.

- (A) Only 3 and 4 (B) Only 1 and 2
 (C) Only 1 and 4 (D) All the four of the above

71. खट्कट्या तथा झामट्या किस से सम्बन्धित है -

- (A) राजस्थानी लोक नाट्य के पात्र
 (B) राजस्थानी हस्तकला के उत्पाद
 (C) राजस्थानी लोकगीत
 (D) राजस्थान में खनिज उत्पादन क्षेत्र

Khatkatya and Jhamatya are related to -

- (A) Characters of Rajasthani folk drama
 (B) Rajasthani handicraft products
 (C) Rajasthani folk songs
 (D) Mineral production areas in Rajasthan

72. कौनसा एक युग्म सही सुमेलित नहीं है -

- (A) खंजरी - अनवद्ध वाद्य यंत्र
 (B) सुरिदा - सुषिर वाद्य यंत्र
 (C) पावरी - तत् वाद्य यंत्र
 (D) लेजिम - घन वाद्य यंत्र

Which one pair is not correctly matched -

- (A) Khanjari - Anvaddha musical instrument
 (B) Sunrida - Sushir musical instrument
 (C) Pavri - Tat musical instrument
 (D) Legim - Ghan musical instrument

73. कॉलम I को कॉलम II से सुमेलित कीजिए तथा नीचे दिए गये कूट की सहायता से अपना उत्तर दीजिए-

- | | |
|-------------|--------------------|
| 1. रसिया | A. हाड़ौती क्षेत्र |
| 2. बिछुड़ा | B. ब्रज क्षेत्र |
| 3. झोरावा | C. मेवाड़ क्षेत्र |
| 4. सुंवटिया | D. जैसलमेर क्षेत्र |

- | | | | | |
|-----|---|---|---|---|
| | 1 | 2 | 3 | 4 |
| (A) | A | B | C | D |
| (B) | B | A | C | D |
| (C) | B | A | D | C |
| (D) | A | B | D | C |

Match Column I with Column II and give your answer using the code given below -

1. Rasiya A. Hadoti region
2. Bichhura B. Braj region
3. Jhorava C. Mewar region
4. Sunwatiya D. Jaisalmer region
- | | | | | |
|-----|---|---|---|---|
| | 1 | 2 | 3 | 4 |
| (A) | A | B | C | D |
| (B) | B | A | C | D |
| (C) | B | A | D | C |
| (D) | A | B | D | C |
74. निम्नलिखित संतो के बारे में विचार कीजिए -
1. बखना जी 2. माधोदास जी
3. जसनाथ जी 4. जगन्नाथ जी
- उपर्युक्त में से कौन - कौन दादूजी के शिष्य थे ?
- (A) केवल 1 (B) 1, 2 और 3
(C) 1 और 2 (D) 1, 2 और 4
- Consider the following saints -
1. Bakhna Ji 2. Madhudas Ji
3. Jasnath Ji 4. Jagannath Ji
- Who among the above were disciples of Dadu Ji?
- (A) Only 1 (B) 1, 2 and 3
(C) 1 and 2 (D) 1, 2 and 4
75. जगरोती बोली किस क्षेत्र में बोली जाती है -
- (a) बांसवाड़ा (b) भरतपुर
(c) करौली (d) जयपुर
- Jagrauti dialect is spoken in which region -
- (a) Banswara (b) Bharatpur
(c) Karauli (d) Jaipur
76. 'स' उपसर्ग रहित शब्द है-
- (A) सहित (B) सहानुभूति
(C) सोदाहरण (D) सोल्लास
77. 'देशभक्ति' किस तत्पुरुष समास का उदाहरण है
- (A) कर्म तत्पुरुष (B) करण तत्पुरुष
(C) अपादान तत्पुरुष (D) सम्बन्ध तत्पुरुष
78. निम्नलिखित में से किस शब्द में 'एरा' प्रत्यय नहीं है-
- (A) घनेरा (B) सपेरा
(C) सवेरा (D) ममेरा
79. किस शब्द में 'गार' प्रत्यय का प्रयोग नहीं हुआ है -
- (A) यादगार (B) सभागार
(C) मददगार (D) रोजगार
80. 'उपर्युक्त' शब्द का सही संधि विच्छेद होगा -
- (A) ऊपरि + उक्त (B) ऊपर + युक्त
(C) ऊपरि + युक्त (D) ऊपर + उक्त
81. 'पवन' शब्द का संधि विच्छेद होगा -
- (A) प + वन (B) पव + अन
(C) पो + अन (D) पव + न
82. हाथी का पर्यायवाची शब्द नहीं है -
- (A) मतंग (B) करि
(C) पुण्डरीक (D) नाग
83. किस विकल्प में सभी शब्द 'पृथ्वी' के पर्यायवाची हैं -
- (A) धरती, अग्नि, ऋक्ष
(B) मही, विश्वंभरा, धरणी
(C) अचल, धरा, याज्ञसेनी
(D) क्षिति, वसुधा, मौलि
84. पर्यायवाची शब्दों के सन्दर्भ में अनुचित युग्म छांटिए-
- (A) किरण - रश्मि, मयूख, अंशु
(B) स्वर्ण - कुन्दन, हिरण्य, पारावत
(C) कृष्ण - मुरारि, कसांरि, वाष्पण्य
(D) कौआ - करठ, पिशुन, बलिमुक्त
85. "विस्तीर्ण" का सही विलोम है -
- (A) उत्कीर्ण (B) संकीर्ण
(C) अनुर्तीर्ण (D) विकीर्ण
86. इनमें से कौनसा विलोम युग्म सही नहीं है -
- (A) सम्पत्ति - विपत्ति (B) इष्ट - अनिष्ट
(C) उर्वर - ऊसर (D) अचल - अविचल
87. किस क्रमांक में शब्द-युग्म का सही अर्थ भेद है
- (A) तरणि - तरणी = नौका और सूर्य
(B) अनल - अनिल = हवा और अग्नि
(C) मरीचि - मरीची = रश्मि और सूर्य
(D) श्लील - सलील = नदी और शिष्ट
88. 'हर समय दूसरो की कमियाँ ढूँढने वाला ' वाक्यांश के लिए सार्थक शब्द होगा -
- (A) छिन्द्रान्वेषी (B) चुगलखोर
(C) दुष्ट (D) आलोचक
89. 'नानी कुंआरी मर गयी नवासे के नौ नौ व्याह' लोकोक्ति का अर्थ है -
- (A) व्यर्थ शेखी बधारने वाला।
(B) एक आदमी अपराध करे और दूसरा दंड भुगते।
(C) अधिक जानने वाले को उपदेश देने वाला।
(D) दूसरों की सम्पत्ति से लाभ उठाने वाला।

90. 'हठी व्यक्ति पर कोई प्रभाव नहीं पड़ता' अर्थ को प्रकट करने वाली लोकोक्ति है -
 (A) अधजल गगरी छलकत जाय
 (B) पत्थर को जोंक नहीं लगती
 (C) लातों के भूत बातों से नहीं मानते
 (D) छछून्दर के सिर में चमेली का तेल
91. The average age of 14 friends is 14 years. If the age of 15th friend is added, then the average remains same. What is the age of the 15th friend?
 14 मित्रों की औसत आयु 14 वर्ष है। यदि 15वें मित्र की आयु जोड़ दी जाए, तो औसत समान रहता है। 15वें मित्र की आयु क्या है?
 (A) 15 years (B) 18 years
 (C) 14 years (D) 12 years
92. If '+' means 'division', '-' means 'addition', 'x' means 'subtraction' and '÷' means 'multiplication', what will be the value of the following expression?
 यदि '+' का अर्थ 'विभाजन', '-' का अर्थ 'जोड़', 'x' का अर्थ 'घटाना' और '÷' का अर्थ 'गुणन' है, तो निम्नलिखित व्यंजक का मान क्या होगा?

$$[\{ (48 \times 20) - (2 \div 4) \} + (2 - 4)] \div 2$$

 (A) 10 (B) 12
 (C) 6 (D) 8
93. A can do a work in 5 days, B in 4 days and A, B and C together in 2 days. In what time could C do it alone?
 A एक कार्य को 5 दिनों में कर सकता है, B, 4 दिनों में तथा A, B और C साथ उसी कार्य को 2 दिनों में कर सकते हैं, तो C अकेला इसे कितने समय में कर सकता है ?
 (A) 15 days (B) 20 days
 (C) 26 days (D) 25 days
94. If 14 January 2022 was Friday, then what will be the day of the week on 28 February 2025?
 यदि 14 जनवरी 2022 को शुक्रवार था, तो 28 फरवरी 2025 को सप्ताह का कौन सा दिन होगा?
 (A) Friday (B) Monday
 (C) Sunday (D) Saturday
95. Select the option that is related to the fifth number in the same way as the second number is related to the first number and the fourth number is related to the third number.
 उस विकल्प का चयन कीजिए जो पाँचवीं संख्या से उसी प्रकार संबंधित है जैसे दूसरी संख्या, पहली संख्या से संबंधित है और चौथी संख्या, तीसरी संख्या से संबंधित है।
 $9 : 27 :: 12 : 48 :: 6 : ?$
 (A) 18 (B) 20
 (C) 12 (D) 22
96. A series is given with one term missing. Select the correct alternative from the given ones that will complete the series.

एक शृंखला दी गई है जिसमें एक पद लुप्त है। दिए गए विकल्पों में से वह सही विकल्प का चयन जो शृंखला को पूरा करेगा।
 TRAP, MMRE, FHIT, YCZI, ?
 (A) RYQY (B) RXQX
 (C) RYQX (D) RXQY

97. Two trains start at the same time from Bangalore and Chennai and proceed towards each other at the speeds of 80 km/h and 95 km/h. When they meet, it is found that one train has travelled 180 km more than the other. The distance between Bangalore and Chennai is:
 दो ट्रेनें एक ही समय पर बेंगलोर और चेन्नई से शुरू होती हैं तथा 80 किमी/घंटा और 95 किमी/घंटा की गति से एक-दूसरे की ओर बढ़ती हैं। जब वे मिलती हैं तो पता चलता है कि एक ट्रेन दूसरी से 180 किमी ज्यादा चल चुकी है। बेंगलोर और चेन्नई के बीच की दूरी क्या है?
 (A) 345 km (B) 400 km
 (C) 1200 km (D) 2100 km
98. In a certain code language, 'TAKES' is coded as '51', 'LEAVE' is coded as '40'. What is the code for 'TEAM' in that code language?
 एक निश्चित कूट भाषा में, 'TAKES' को '51' के रूप में कूटबद्ध किया जाता है, 'LEAVE' को '40' के रूप में कूटबद्ध किया जाता है। उस कूट भाषा में 'TEAM' के लिए कूट क्या है?
 (A) 49 (B) 34
 (C) 36 (D) 39
99. Roshan is the brother of Kripa, who is the son of Pranjal. Vaishnavi is the wife of Aayush. Pramila is the daughter of Devika. Devika is the grandmother of Aayush, who is the son of Roshan. How is Roshan related to Pramila?
 रोशन, कृपा का भाई है, जो प्रांजल का पुत्र है। वैष्णवी, आयुष की पत्नी है। प्रमिला, देविका की पुत्री है। देविका, आयुष की दादी है, जो रोशन का पुत्र है। रोशन का प्रमिला से क्या सम्बन्ध है?
 (A) ससुर Father-in-law (B) पिता Father
 (C) भाई Brother (D) भतीजा/भांजा Nephew
100. X and Y invest Rs. 5200 and Rs. 6200 respectively in a business. If X doubles his capital after 6 months. In what ratio should X and Y divide that year's profit ?
 X और Y एक व्यवसाय में क्रमशः 5200 रुपये और 6200 रुपये का निवेश करते हैं। यदि X, 6 महीने के बाद अपनी पूंजी को दोगुना कर देता है। X और Y को उस वर्ष के लाभ को किस अनुपात में विभाजित करना चाहिए?
 (A) 39 : 37 (B) 39 : 31
 (C) 39 : 32 (D) 31 : 39

SPACE FOR ROUGH WORK

SPACE FOR ROUGH WORK

SPACE FOR ROUGH WORK

SPACE FOR ROUGH WORK

‘दृढ़ निश्चय के साथ निरंतर अभ्यास करें’



बड़ली में विशेष मार्गदर्शन सेमिनार

जोधपुर @ पत्रिका. अखिल भारतीय राजपुरोहित समाज विकास संस्थान श्री खेतेश्वर ब्रह्मधाम तीर्थ आसोतरा के तत्वावधान में बड़ली में संचालित प्रतियोगी परीक्षा केन्द्र में विशेष मार्गदर्शन सेमिनार का आयोजन किया गया।

श्री खेतेश्वर प्रतियोगी परीक्षा केन्द्र, बड़ली विद्यापीठ के उप समन्वयक महेन्द्र सिंह खीचन ने बताया कि सेमिनार के मुख्य वक्ता

गुजरात केन्द्र के आईएएस अधिकारी गंगा सिंह डंडाली ने केन्द्र में प्रतियोगिता परीक्षा की तैयारी करने वाले विद्यार्थियों को संबोधित किया। सिंह ने कहा कि विद्यार्थी जीवन एक सुनहरा समय है। इसको सफलता में तब्दील करें। कोर्स पूरा करने के लिए छोटे-छोटे लक्ष्य बनाकर उन्हें हासिल करें। दृढ़ निश्चय के साथ निरंतर अभ्यास करें। सेमिनार में प्रतियोगिता परीक्षा कमेटी के अभ्यर्थी सिंह खेड़ापा, दीप सिंह पिलोवणी, पप्पू सिंह बड़ली तथा वार्डन बाबू सिंह थोब उपस्थित थे।



जोधपुर 05-12-2022

राजकीय सेवा में चयनित प्रतिभाओं का सम्मान

जोधपुर। श्री खेतेश्वर प्रतियोगी परीक्षा केन्द्र बड़ली की ओर से राजपुरोहित समाज की राजकीय सेवा में चयनित प्रतिभाओं का बड़ली में सम्मान किया गया। खेतेश्वर स्मृति शिक्षण संस्थान के महामंत्री मदनसिंह बाड़ा ने बताया कि वेदांताचार्य डॉ. ध्यानाराम महाराज के सान्निध्य में हुए समारोह में राजकीय सेवा में चयनित प्रतिभाओं को सम्मानित किया गया। इस मौके पर श्यामसिंह पिलोवनी, अर्जुनसिंह फुलासर, प्रो. लालसिंह व डॉ. गिरधारी सिंह बतौर अतिथि मौजूद थे। स्वागत महेन्द्र सिंह खीचन ने किया। संचालन अभयसिंह ने किया।



समाज शिक्षा निधि समर्पण योजना

से संचालित



श्री खेतेश्वर प्रतियोगी परीक्षा केन्द्र, बड़ली (जोधपुर)

राजस्थान पुलिस कांस्टेबल सेवा में अंतिम रूप से चयनित समाज बंधु



जसराज सिंह सुपुत्र
श्री शंकरसिंह जी
लंगेरा, बाड़मेर



रितिक सिंह सुपुत्र
श्री सुरेशसिंह जी
कुआरड़ा, जालोर



किशन सिंह सुपुत्र
श्री रामसिंह जी
जेढानिया, कानोडिया, जोधपुर



गौरव सिंह सुपुत्र
श्री चैनसिंह जी
बंबोर, जोधपुर



प्रवीण सिंह सुपुत्र
श्री गुलाबसिंह जी
पादरु, बालोतरा

राजस्थान पुलिस कांस्टेबल सेवा में चयनित सभी समाज बंधुओं को अखिल भारतीय राजपुरोहित समाज विकास संस्थान की ओर से बहुत-बहुत बधाई एवं उज्ज्वल भविष्य की मंगलकामनाएं।

अखिल भारतीय राजपुरोहित समाज विकास संस्थान, श्री खेतेश्वर ब्रह्मधाम तीर्थ, आसोतरा (बालोतरा)

श्री ब्रह्मजी का मंदिर एवं राजपुरोहित समाज विकास न्यास, श्री खेतेश्वर ब्रह्मधाम तीर्थ आसोतरा (जिला-बालोतरा) श्री खेतेश्वर प्रतियोगी परीक्षा समिति, बड़ली (जोधपुर)



03

राजस्थान पत्रिका patrika.com
जोधपुर, सोमवार, 05 दिसम्बर 2022

राजकीय सेवाओं में चयनित राजपुरोहित प्रतिभाओं का सम्मान



जोधपुर @ पत्रिका. समाज शिक्षा निधि समर्पण योजना के तहत संचालित खेतेश्वर प्रतियोगी परीक्षा केन्द्र बड़ली में रविवार को विभिन्न राजकीय में सेवाओं में चयनित राजपुरोहित समाज की प्रतिभाओं का बहुमान किया गया।

खेतेश्वर स्मृति शिक्षण संस्थान के महामंत्री एडवोकेट मदन सिंह

बाड़ा ने बताया कि संत तुलछाराम की सद्प्रेरणा और वेदांताचार्य डॉ. ध्यानाराम के सान्निध्य में आयोजित समारोह के मुख्य अतिथि श्याम सिंह पिलोवनी व विशिष्ट अतिथि अर्जुन सिंह फुलासर, प्रो. लाल सिंह ओसियां, डॉ. गिरधारी सिंह ने प्रतिभाओं को माला, साफा पहना कर तथा स्मृति चिन्ह देकर

सम्मानित किया। कार्यक्रम में धीरेन्द्र सिंह वामणु (डायरेक्टर, टेस्ट टीम) ने प्रोजेक्ट बारे में विस्तार से विवरण रखा। मंच संचालन अभय सिंह खेड़ापा(डायरेक्टर एजुकेशन) ने किया था। केन्द्र के उप समन्वयक महेन्द्र सिंह खीचन ने स्वागत उद्बोधन दिया। समारोह में मदन सिंह खेड़ापा, श्याम सिंह खीचन, रामचंद्र सिंह बासनी मनणा, राजपुरोहित सेवा न्यास जोधपुर के संरक्षक डॉ. करण सिंह रास, महेन्द्र सिंह तिवरी (अध्यक्ष, सेवा न्यास), भंवर सिंह शिवतलाव (सचिव) आदि मौजूद रहे।

॥ ॐ ब्रह्मणे नमः ॥

॥ श्री खेतेश्वराय नमः ॥



समाज शिक्षा निधि

समर्पण योजना



संचालित

श्री खेतेश्वर प्रतियोगी परीक्षा केन्द्र, बड़ली (जोधपुर)

श्री खेतेश्वर विद्यापीठ बड़ली केन्द्र से विभिन्न सरकारी भर्तियों में चयनित समाज बंधु



NEXT
आप

श्री खेतेश्वर प्रतियोगी परीक्षा केन्द्र, श्री खेतेश्वर विद्यापीठ बड़ली, (जोधपुर) केन्द्र से विभिन्न सरकारी भर्तियों में चयनित सभी समाज बंधुओं को अखिल भारतीय राजपुरोहित समाज विकास संस्थान की ओर से बहुत-बहुत बधाई एवं उज्वल भविष्य की मंगलकामनाएं तथा मार्गदर्शन और संचालन समिति का बहुत-बहुत आभार श्री ब्रह्माजी का मंदिर एवं राजपुरोहित समाज विकास न्यास, श्री खेतेश्वर ब्रह्मधाम तीर्थ आसोतरा (बालोतरा) अखिल भारतीय राजपुरोहित समाज विकास संस्थान, श्री खेतेश्वर ब्रह्मधाम तीर्थ आसोतरा (बालोतरा) श्री खेतेश्वर प्रतियोगी परीक्षा केन्द्र, श्री खेतेश्वर विद्यापीठ, बड़ली (जोधपुर)